

## COSTRUZIONI DI APPARECCHIATURE CHIMICHE

Esame del 06/07/2011

### Esercizio

La piastra circolare in figura 1a), di spessore  $h = 12\text{mm}$  in lega leggera ( $E = 76\text{GPa}$ ,  $\nu = 0.3$ ,  $\sigma_{am} = 250\text{MPa}$ ), è appoggiata sul bordo esterno e sollecitata da un momento uniformemente distribuito sul contorno  $M_0$  che determina un coefficiente di sicurezza a resistenza pari a 2.

a) Tracciare l'andamento quotato delle caratteristiche di sollecitazione flessionali nella piastra.

b) Determinare il valore della freccia massima.

Come mostrato in figura 1b), la piastra viene successivamente lavorata simmetricamente in modo che il suo spessore nella zona centrale risulta dimezzato.

c) Impostare il sistema risolvante che permette di valutare il valore della freccia massima prodotta con lo stesso carico.

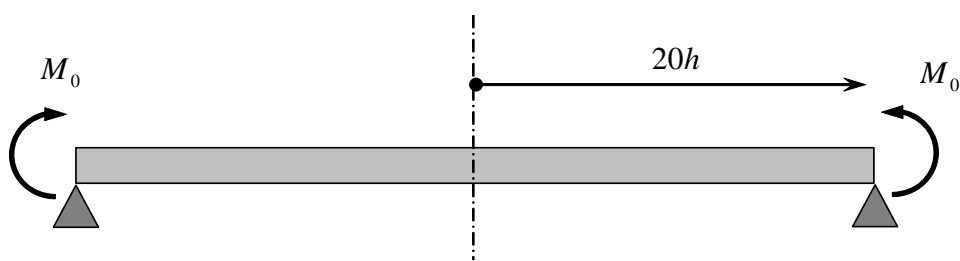


Figura 1a)

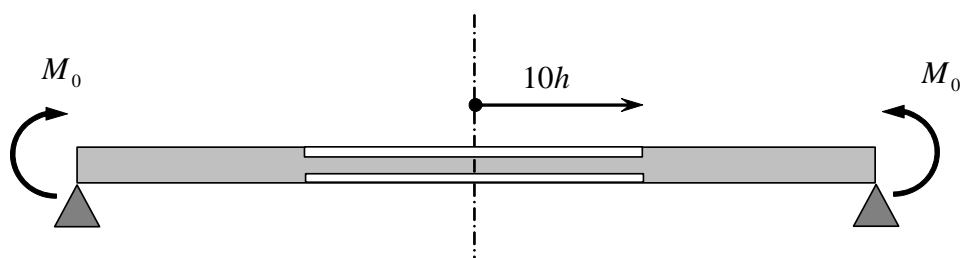


Figura 1b)

### Risposta a)

La piastra è uniformemente sollecitata con:

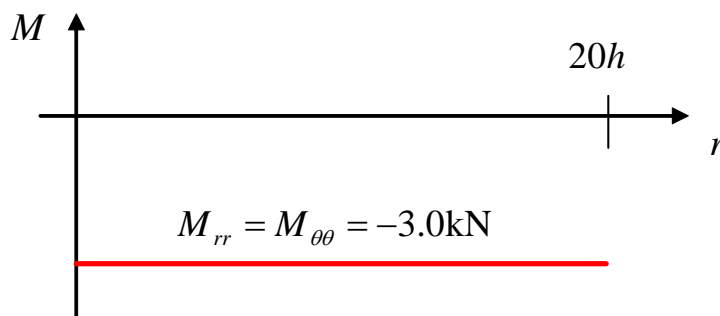
$$M_{rr} = M_{\theta\theta} = -M_0$$

lo stato di tensione massimo è equibiaassiale per cui:

$$\sigma_{eq,max} = M_0 \frac{6}{h^2}$$

da cui:

$$M_0 = 3\text{kN}$$



**Risposta b)**

La piastra si deforma come una calotta sferica di curvatura

$$k_{rr} = k_{\theta\theta} = -DM_0(1+\nu)$$

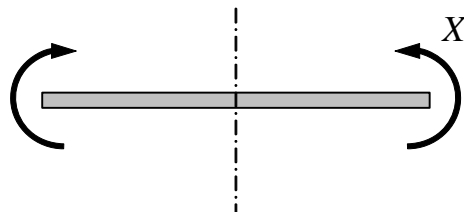
la freccia massima (nel centro) vale quindi:

$$\delta = \frac{1}{2}k_{rr}(20h)^2 = -9.34 \text{ mm}$$

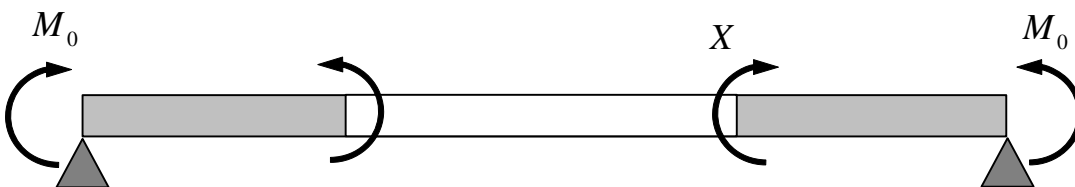
negativa perché verso il basso.

**Risposta c)**

È necessario dividere il problema in due (per la discontinuità dello spessore):



Problema 1



Problema 2

e lo spostamento è espresso da:

$$w(r) = \begin{cases} w_1(r) & \text{per } r < 10h \\ w_2(r) & \text{per } r > 10h \end{cases}$$

Dato che per entrambi i problemi il taglio è nullo:

$$w_1(r) = \frac{c_{11}}{4}r^2 + c_{21} \ln\left(\frac{r}{10h}\right) + c_{31}$$

$$w_2(r) = \frac{c_{12}}{4}r^2 + c_{22} \ln\left(\frac{r}{20h}\right) + c_{32}$$

Le 6 C.C. necessarie sono:

$$\begin{cases} c_{21} = 0 \\ w_1(10h) = w_2(10h) \\ \frac{dw_1}{dr}(10h) = \frac{dw_2}{dr}(10h) \\ w_2(20h) = 0 \\ M_{1rr}(10h) = M_{2rr}(10h) \\ M_{2rr}(20h) = -M_0 \end{cases}$$

dove:

$$M_{1rr} = -D_1 \cdot \left( \frac{d^2w_1}{dr^2} + \frac{\nu}{r} \frac{dw_1}{dr} \right) \text{ e } M_{2rr} = -D_2 \cdot \left( \frac{d^2w_2}{dr^2} + \frac{\nu}{r} \frac{dw_2}{dr} \right)$$

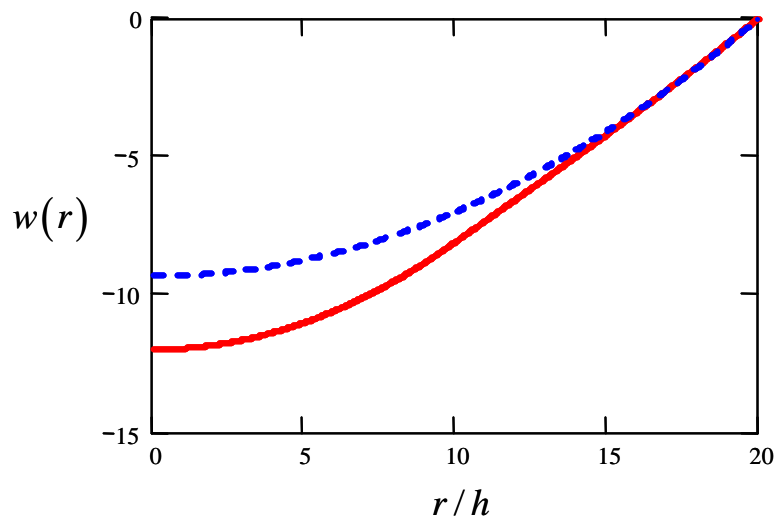
in cui:

$$D_1 = \frac{E \left(\frac{h}{2}\right)^3}{12(1-\nu^2)}; \quad D_2 = D = \frac{Eh^3}{12(1-\nu^2)}$$

La soluzione numerica (non richiesta) è:

$$\delta = -12.0 \text{ mm}$$

Andamento della deformata nei due casi (non richiesta).



## ESERCIZIO 2

Una lastra incastrata agli estremi mostrata in Fig. 2.1, reca al bordo esterno una fessura passante di dimensione "a".

Se la lastra, che viene montata alla temperatura di 20°C (alla quale risulta priva di tensioni) subisce un raffreddamento fino a -80 °C, si chiede di condurre la verifica di integrità.

Dati:

$s = 10 \text{ mm}$

spessore lastra

$W = 800 \text{ mm}$

dimensione lastra

$L_0 = 3000 \text{ mm}$

lunghezza lastra

$a = 15 \text{ mm}$

dimensione frattura

$E = 220000 \text{ MPa}$

modulo Young materiale lastra a -80 °C

$\sigma_s = 350 \text{ MPa}$

tensione di snervamento materiale lastra a -80 °C

$\alpha = 1.2 \cdot 10^{-5} \text{ } ^\circ\text{C}^{-1}$

coefficiente di dilatazione termica materiale lastra

$K_{IC} = 45 \text{ MPa}\cdot\sqrt{\text{m}}$

tenacità materiale lastra a -80 °C

$\beta = 1.12$

coefficiente per calcolo fattore intensificazione sforzi

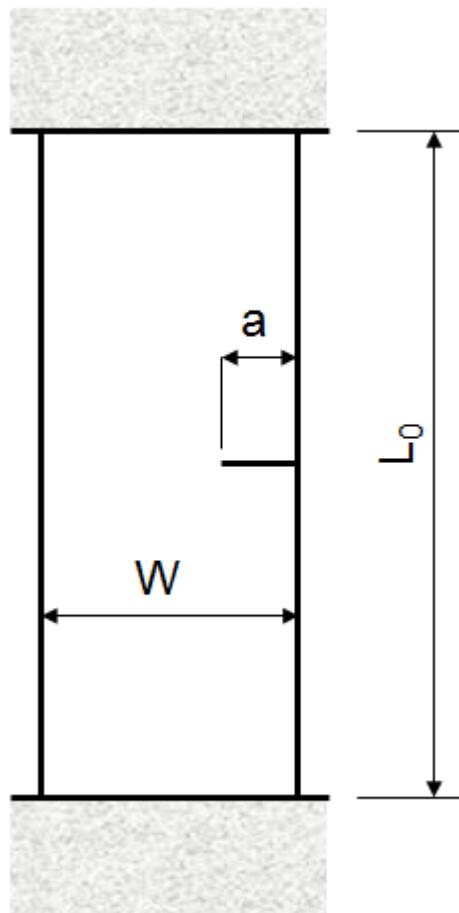


Fig. 2.1

$$s_0 := 10\text{-mm}$$

$$\alpha := 1.2 \cdot 10^{-5}$$

$$E_y := 220000\text{-MPa}$$

$$a_1 := 15\text{-mm}$$

$$\Delta T := 100$$

$$\sigma_s := 350\text{-MPa}$$

$$\beta := 1.12$$

$$K_{IC} := 45\text{-MPa}\cdot\sqrt{\text{m}}$$

$$W_0 := 800\text{-mm}$$

$$\sigma_{\text{nom}} := \alpha \cdot E_y \cdot \Delta T = 264 \cdot \text{MPa}$$

Tensione nominale

Verifica frattura fragile

$$K_I := \sigma_{\text{nom}} \cdot \beta \cdot \sqrt{\pi \cdot a_1} = 64.186 \cdot \text{MPa} \cdot \sqrt{\text{m}} \quad > \quad K_{IC} = 45 \cdot \text{MPa} \cdot \sqrt{\text{m}} \quad \text{NO}$$

Verifica collasso plastico

$$\sigma_{\text{nom}} = 264 \cdot \text{MPa} \quad < \quad \sigma_{\text{nomC}} := \frac{\sigma_s \cdot (W_0 - a_1)}{W_0} = 343.438 \cdot \text{MPa} \quad \text{OK}$$

### ESERCIZIO 3

La trave mostrata in Fig. 3.1 è incastrata ad un estremo e caricata su tutta la sua lunghezza con un carico distribuito  $p$ .

La trave presenta una saldatura longitudinale a piena penetrazione, della quale si chiede di condurre la verifica di resistenza.

Dati

$s = 4 \text{ mm}$	spessore lamiera
$H = 200 \text{ mm}$	altezza profilato
$B = 120 \text{ mm}$	larghezza profilato
$L_1 = 2 \text{ m}$	lunghezza primo tratto trave
$L_2 = 0.8 \text{ m}$	lunghezza secondo tratto trave
$p = 13 \text{ N/mm}$	carico distribuito verticale
$\sigma_{amm} = 430 \text{ MPa}$	tensione ammissibile materiale trave
$f_W = 0.85$	efficienza saldatura

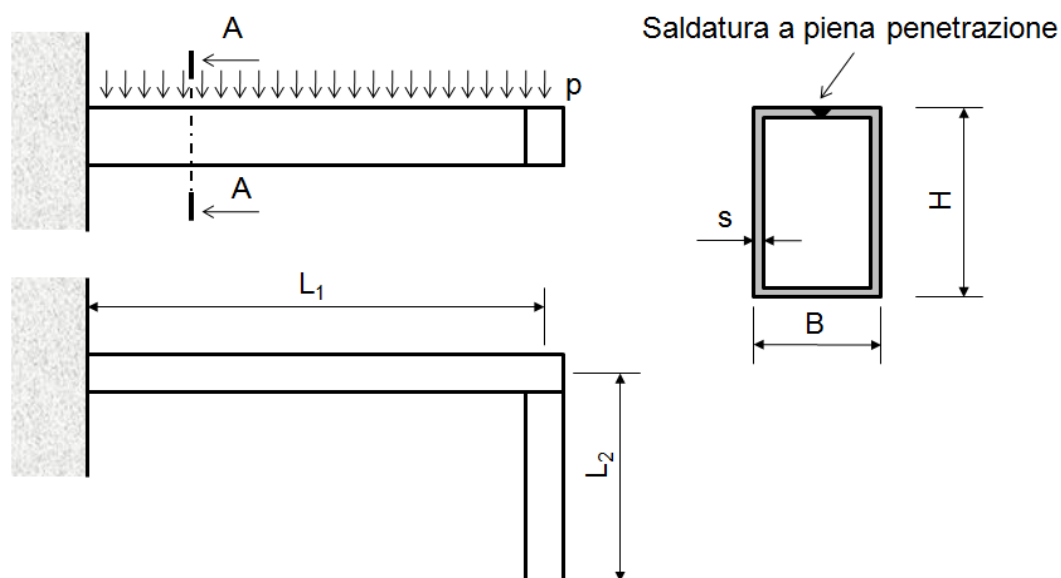


Fig. 3.1

$$s_0 := 4 \cdot \text{mm}$$

$$H := 200 \cdot \text{mm}$$

$$B := 120 \cdot \text{mm}$$

$$L_1 := 2 \cdot \text{m}$$

$$L_2 := 0.80 \cdot \text{m}$$

$$p_0 := 13.0 \cdot \frac{\text{N}}{\text{mm}}$$

$$f_W := 0.85$$

$$\sigma_{amm} := 430 \cdot \text{MPa}$$

Calcolo caratteristiche di sollecitazione

$$M_{fmax} := p_0 \cdot L_2 \cdot L_1 + p_0 \cdot \frac{L_1^2}{2} = 4.68 \times 10^4 \cdot \text{N} \cdot \text{m} \quad \text{Flessione max}$$

$$M_{tmax} := p_0 \cdot \frac{L_2^2}{2} = 4.16 \times 10^3 \cdot \text{N} \cdot \text{m} \quad \text{Torsione max}$$

Caratteristiche sezione trave

$$J_x := \frac{B \cdot H^3 - (B - 2 \cdot s_0) \cdot (H - 2 \cdot s_0)^3}{12} = 1.394 \times 10^7 \cdot \text{mm}^4$$

$$\Omega_0 := (B - s_0) \cdot (H - s_0) = 2.274 \times 10^4 \cdot \text{mm}^2$$

Calcolo tensioni

$$\sigma_{par} := \frac{M_{fmax}}{J_x} \cdot \frac{H}{2} = 335.731 \cdot \text{MPa} \quad \text{Tensione normale da flessione (parallela)}$$

$$\tau_{par} := \frac{M_{tmax}}{2\Omega_0 \cdot s_0} = 22.871 \cdot \text{MPa} \quad \text{Tensione tangenziale da torsione (parallela)}$$

Verifica

$$\sigma_{id} := \sqrt{\sigma_{par}^2 + 3 \cdot \tau_{par}^2} = 338.06 \cdot \text{MPa} < \sigma_{ammW} := f_W \cdot \sigma_{amm} = 365.5 \cdot \text{MPa}$$